

## **ACTIVITE 3 : Analyser et comprendre un document /Pratiquer différents langages**

### **Les espaces industriels en France**

**Binôme**

**45 min**

**PBQ : Quelles sont les caractéristiques d'un espace productif industriel français ?**

#### **Exercice 1 : Expliquer un document**

1. Les principaux espaces industriels en voie de désindustrialisation ou en reconversion sont situés au nord et nord-est et dans la vallée du Rhône.
2. Les activités industrielles innovantes se situent dans les métropoles, sur les façades maritimes : la façade atlantique et sur la façade méditerranéenne.
3. On assiste à un essor des régions maritimes, et frontalières alors que les vieilles régions industrielles du nord et de l'est sont en déclin ou en reconversion.
4. Notre collège appartient à un espace industriel dynamique de haute technologie.

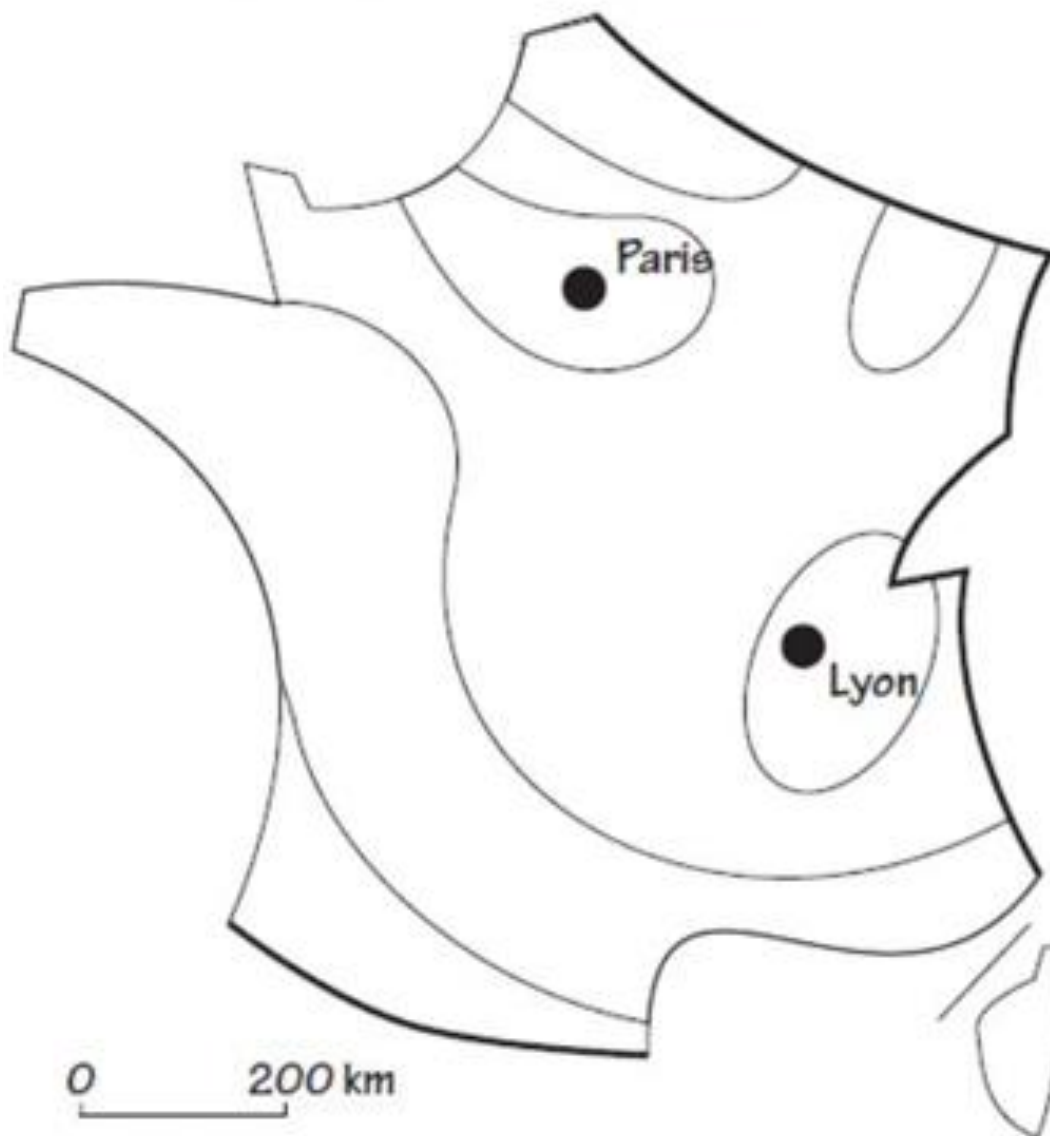
#### **Exercice 2 : Lire une image**







- L'usine sidérurgique fermée de Florange en Moselle : Espaces en voie de désindustrialisation ou en reconversion.
- L'usine PSA Peugeot Citroën de Poissy dans les Yvelines : Espaces anciennement industrialisés et dynamiques.
- Les chantiers navals de Saint-Nazaire en Loire Atlantique : Espaces industriels dynamiques de hautes technologies.
- L'usine aéronautique Airbus de Toulouse dans la Haute-Garonne : Espaces industriels dynamiques de hautes technologies.

### Exercice 3 : Réaliser un croquis

Réaliser le croquis à l'aide des bonnes couleurs

## Les espaces industriels



	Deux principales régions industrielles
	Ancienne région industrielle
	Espaces dynamiques (hautes technologies)
	Espaces peu industrialisé
	Métropoles attractives
	Une division industrielle qui s'efface